

Итоговое тестирование по истории за курс 7 класса

Вариант 1.

№1. Предприятие, основанное на разделении труда и ручной технике:

1. мастерская
2. цех
3. мануфактура
4. Фабрика

№2. Какое из перечисленных событий относится к периоду правления Ивана IV

1. введение заповедных лет
2. заключение «Вечного мира» между Россией и Речью Посполитой
3. заключение Деулинского перемирия между Россией и Речью Посполитой
4. Соляной бунт в Москве

№3. Установите соответствие между событиями (процессами) и их участниками: к каждой позиции первого столбца подберите соответствующую позицию из второго столбца.

СОБЫТИЯ (ПРОЦЕССЫ)	УЧАСТНИКИ
А) Протекторат в Англии	1) Фрэнсис Дрейк
Б) Смутное время	2) Оливер Кромвель
В) деятельность Избранной Рады	3) Иван Исаевич Болотников
	4) Андрей Михайлович Курбский
	5) патриарх Никон

№4. Прочитайте отрывок из сочинения историка и укажите монарха, имя которого пропущено в тексте.

Царствование _____ в особенности было «бунташным временем», как тогда его называли. К тому времени окончательно сложился в составе московского общества и управления тип «сильного человека» или «временника», по тогдашнему выражению... Простой народ относился к этим временщикам с самой задушевной ненавистью. Московский июньский мятеж, отозвавшийся во многих других городах, был ярким выражением этого чувства.

1. Михаил Романов
2. Алексей Михайлович
3. Иван IV
4. Фёдор Иванович

№5. Установите соответствие между событиями и годами

События	Годы
А) смерть царевича Дмитрия в Угличе	1. 1551 г.
Б) Стоглавый собор	2. 1591 г.
В) заключение Столбовского мира между Россией и Швецией	3. 1617 г.
	4. 1667 г.

№6. Что из перечисленного стало одним из результатов Смуты?

1. начало созыва Земских соборов
2. введение урочных лет
3. Ливонская война
4. Воцарение династии Романовых

№7. Ниже приведён перечень терминов. Все они, за исключением одного, относятся к событиям (явлениям, процессам), происходившим в России в XVI веке. Укажите номер термина, выпадающего из данного ряда.

1. Уложение о службе
2. стрельцы
3. дворяне
4. Полки нового строя
5. Губные старосты

№8. Укажите время, с точностью до десятилетия, когда Смоленск вошел в состав Русского Царства при Василии III. Укажите одно любое событие из истории зарубежных стран, относящееся к этому же веку и десятилетию. Не следует указывать событие из истории международных отношений, одной из сторон которых была Россия.

1. Время с точностью до десятилетия:
2. Событие из истории зарубежных стран:


№9. Какие из приведённых памятников культуры были созданы в XVI в.? Выберите два памятника культуры и запишите в таблицу цифры, под которыми они указаны.

Ознакомьтесь с приведённым перечнем и изображениями памятников культуры и выполните задания 9, 10.

1)



2)

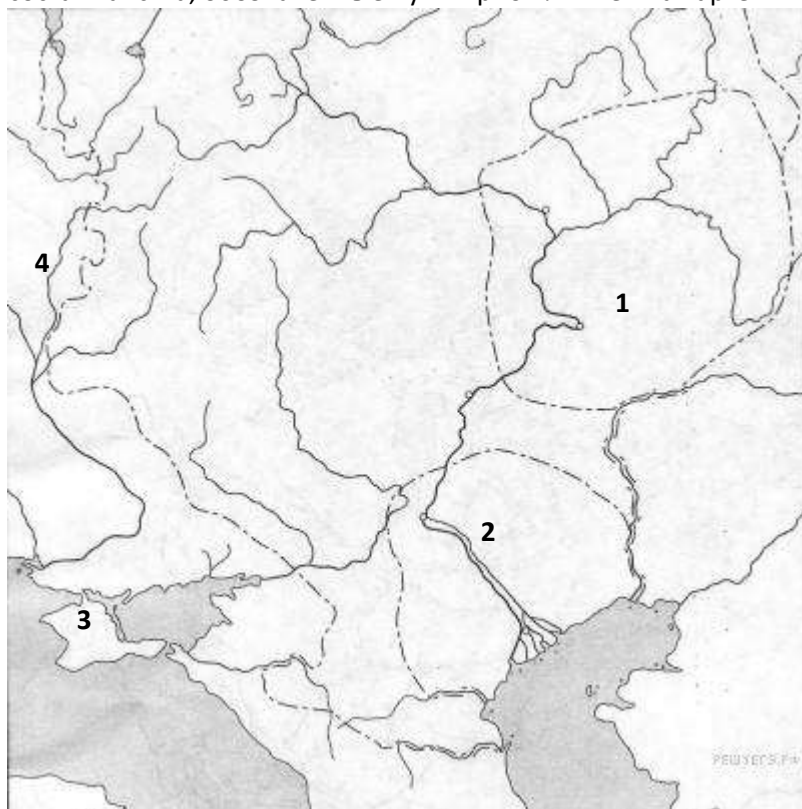


3) Повесть «О Ерше Ершовиче»

4) Первая печатная датированная книга «Апостол»

№10. Создателем, какого из приведённых памятников культуры был Иван Федоров? Укажите порядковый номер этого памятника культуры.

№11. Назовите российского монарха в период, когда Московское государство включило в свой состав ханства, обозначенные пунктирной линией на карте.



1. Василий III
2. Иван IV
3. Фёдор Иванович
4. Борис Годунов

№12. Какой цифрой обозначено на карте Казанское ханство. Укажите цифру.

Прочтите перечень из четырёх событий (процессов). Выберите **ОДНО** событие (процесс) из перечня, а затем выполните задания 13, 14, рассматривая в каждом из заданий выбранное событие (процесс).

Перед выполнением каждого из заданий 13, 14 укажите букву, которой выбранное событие (процесс)

обозначено в перечне. Указанные в заданиях 13, 14 буквы должны быть одинаковыми.

Перечень событий (процессов)

- А) венчание Ивана IV на царство Б) избрание на царство Михаила Романова
В) экспедиция С. И. Дежнёва Г) заключение Бахчисарайского мирного договора

№13. Укажите год (годы), к которому(-ым) относится выбранное Вами событие (процесс).
Приведите два любых факта, характеризующих ход этого события (процесса).

1. Год (годы):
2. Факты:

№14. Используя знание исторических фактов, объясните, почему это событие (процесс) имело большое значение (важные последствия) в истории нашей страны.

Итоговое тестирование по истории за курс 7 класса

Вариант 2.

№1. Грамота об отпущении грехов

1. Ересь 2. Иконоборчество 3. Индульгенция 4. Инквизиция

№2. Какое из перечисленных событий относится к периоду правления Алексея Михайловича?

1. начало Ливонской войны
2. присоединение Рязанского княжества к Российскому государству
3. Медный бунт
4. учреждение в России патриаршества

№3. Установите соответствие между событиями (процессами) и их участниками: к каждой позиции первого столбца подберите соответствующую позицию из второго столбца.

СОБЫТИЯ (ПРОЦЕССЫ)	УЧАСТНИКИ
А) создание ордена Иезуитов	1) Карл V
Б) восстание Ивана Болотникова	2) Игнатий де Лойола
В) осада Соловецкого монастыря	3) Иван IV
	4) Василий Шуйский
	5) Алексей Михайлович

№4. Прочитайте отрывок из сочинения историка и укажите название явления (события, процесса), пропущенного в тексте.

...Она была вызвана двумя поводами: насильственным и таинственным пресечением старой династии и потом искусственным её воскрешением в лице первого самозванца. Насильственное и таинственное пресечение династии было первым толчком к _____. Пресечение династии есть, конечно, несчастье в истории монархического государства; нигде, однако, оно не сопровождалось такими разрушительными последствиями, как у нас.

1. опричнина
2. Смоленская война
3. Смута
4. Церковная реформа

№5. Установите соответствие между событиями и годами.

События	Годы
А) начало Смоленской войны	1. 1556 г.
Б) отмена кормлений	2. 1606 г.
В) начало восстания под предводительством И. Болотникова	3. 1632 г.
	4. 1686 г.

№6. Что из перечисленного относится к результатам внешней политики Ивана IV?

1. вхождение в состав России Левобережной Украины
2. присоединение Пскова к Российскому государству
3. присоединение Смоленска к Российскому государству
4. присоединение к России Среднего и Нижнего Поволжья

№7. Ниже приведён ряд терминов. Все они, за исключением одного, относятся к событиям (явлениям, процессам), происходившим в России в XVI в. Укажите номер термина, выпадающего из данного ряда.

1. ясак
2. засечные черты
3. Соборное уложение
4. Волость
5. Боярская дума

№8. Укажите время, с точностью до десятилетия, когда Ермак совершил поход в Сибирское ханство. Укажите одно любое событие из истории зарубежных стран, относящееся к этому же веку и десятилетию. Не следует указывать событие из истории международных отношений, одной из сторон которого была Россия.

1. Время с точностью до десятилетия:

2. Событие из истории зарубежных стран:

№9. Какие из приведённых памятников культуры были созданы в XVII в.? Выберите два памятника культуры и запишите в таблицу цифры, под которыми они указаны.

Ознакомьтесь с приведённым перечнем и изображениями памятников культуры и выполните задания 9, 10.

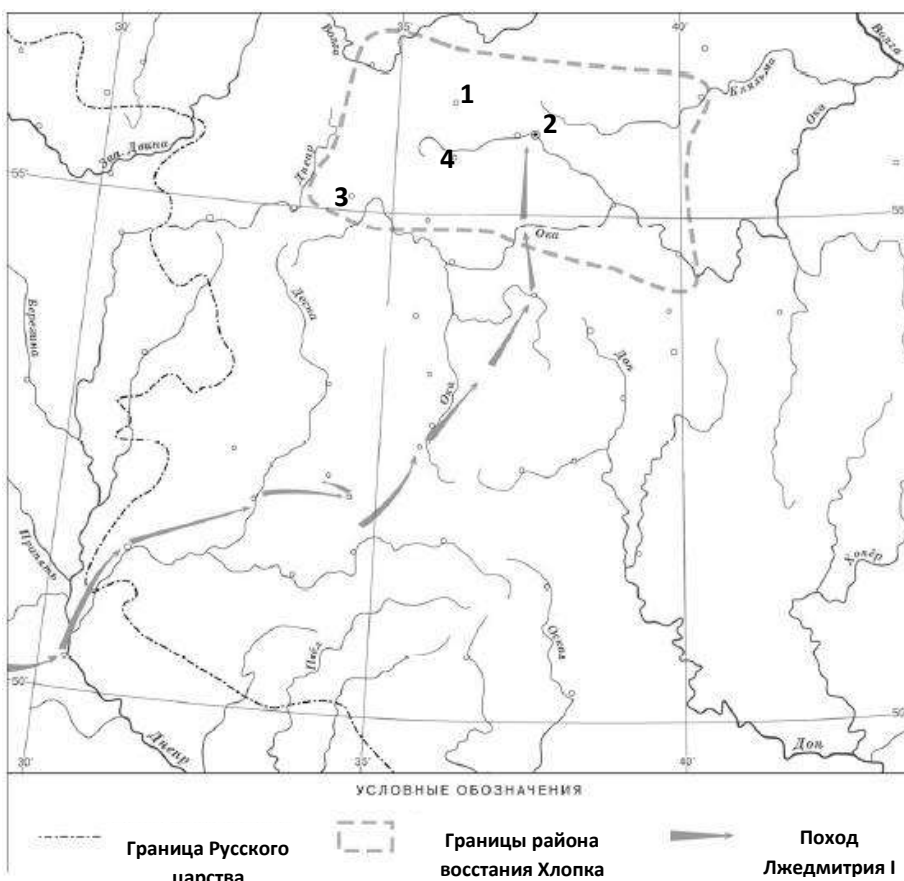
1) Архангельский Собор (Собор святого Архистратига Михаила) в Москве

2) Повесть о «Шемякином суде»



№10. Создателем какого из приведённых памятников культуры был Алевиз Новый? Укажите порядковый номер этого памятника культуры.

№11. Назовите российского монарха в период, когда произошло восстание, границы района которого обозначены на карте.



1. Василий III
2. Иван IV
3. Фёдор Иванович
4. Борис Годунов

№12. Какой цифрой обозначен на карте город Москва. Укажите цифру.

Прочтите перечень из четырёх событий (процессов). Выберите ОДНО событие (процесс) из перечня, а затем выполните задания 13, 14, рассматривая в каждом из заданий выбранное событие (процесс).

Перед выполнением каждого из заданий 13, 14

укажите букву, которой выбранное событие (процесс) обозначено в перечне. Указанные в заданиях 13, 14 буквы должны быть одинаковыми.

Перечень событий (процессов)

А) военная реформа Ивана Грозного

Б) заключение Деулинского перемирия

В) поход Ивана Москвитина

Г) реформа патриарха Никона

№13. Укажите год (годы), к которому(-ым) относится выбранное Вами событие (процесс). Приведите два любых факта, характеризующих ход этого события (процесса).

1. Год (годы):

2. Факты:

№14. Используя знание исторических фактов, объясните, почему это событие (процесс) имело большое значение (важные последствия) в истории нашей страны.

Ключи

Вариант 1			Вариант 2		
№ задания	Ответ	баллы	№ задания	Ответ	баллы
1.	1	1	1.	3	1
2.	1	1	2.	3	1
3.	234	2	3.	245	2
4.	2	1	4.	3	1
5.	213	2	5.	312	2
6.	4	1	6.	4	1
7.	4	1	7.	3	1
8.	1) 1510-е гг. 2) начало Реформации в Германии	2	8.	1) 1580-е гг. 2) разгром Непобедимой армады	2
9.	24	2	9.	24	2
10.	4	1	10.	1	1
11.	2	1	11.	4	1
12.	1	1	12.	2	1
13.	<p>1) А — 1547 г.; Б — 1613 г.; В — 1648 г. (1648–1649); Г — 1681 г.;</p> <p>2) — Иван IV венчался «шапкою Мономаха»; венчание на царство проходило в Успенском соборе Московского Кремля (А); — Михаил Романов был избран на царство Земским собором; многие бояре, поддержавшие кандидатуру Михаила, рассчитывали, что им удастся легко управлять царём (Б); — члены экспедиции С.И. Дежнёва передвигались на кочах — деревянных одномачтовых судах; в ходе экспедиции С. И. Дежнёв, обогнув Большой Каменный Нос, достиг устья Анадыря (В); — во время переговоров представители противников России находились под впечатлением мужества защитников Чигирина; договор был подписан Османской империей, Крымским ханством и Россией (Г).</p>	4	13.	<p>1) А — 1550 г.; Б — 1618 г.; В — 1639 гг.; Г — 1653 г.;</p> <p>2) — Согласно военной реформе ограничивалось местничество на период военных действий; согласно военной реформе учреждались стрелецкие полки (А); — Деулинский договор был заключен между Русским царством и Речью Посполитой; Деулинский договор был заключен как перемирие на 14,5 лет (Б); — отряд Москвитина первым из русских землепроходцев вышел к побережью Тихого океана; рядом с острогом, заложенным Москвитиным, вскоре возникнет русский порт Охотский острог (В); — реформа патриарха Никона предполагала изменение многих церковных обрядов; реформа предполагала перевод церковных книг с греческих образцов, их унификацию (Г).</p>	4
14.	— принятие царского титула поднимало международный авторитет России. Теперь российский государь приравнялся к самым знатным правителям мира (А) ;	3	14.	— военная реформа существенно укрепит военную мощь Московского царства, стрелецкие полки станут основой русской армии (А) ;	3

	<p>— избрание на престол Михаила Романова сыграло важную роль в укреплении российской государственности после тяжёлых испытаний Смутного времени (Б);</p> <p>— значение экспедиции С. И. Дежнёва и Ф. А. Попова в том, что она первой прошла из Ледовитого в Тихий океан (был составлен чертёж), исследовала реку Анадырь (В);</p> <p>— признание Османской империей и Крымским ханством вхождения Левобережной Украины в состав России сделало бесспорным присоединение этой территории к России; позиции России на южных рубежах значительно усилились (Г).</p>			<p>— заключение Деулинского перемирия позволило прекратить польскую интервенцию в Московском царстве, которая началась в Смутное время (Б);</p> <p>— поход Ивана Москвитина к Тихому океану позволил начать процесс освоения русскими землепроходцами Дальнего Востока, включения данного региона в состав Русского царства (В);</p> <p>— реформа Никона привела к расколу Русской православной церкви, появлению старообрядцев, которые не признали реформу (Г)</p>	
--	--	--	--	---	--

Критерии выставления оценок

Баллы	0-6	7-12	13-17	18-23
Оценка	2	3	4	5