

ВПР по математике за 6 класс, комплект 1 вариант 1

Инструкция по выполнению всероссийской проверочной работы

- На выполнение работы по математике даётся 60 минут. Работа содержит 13 заданий.
- В заданиях, после которых есть поле со словом «Ответ», запиши ответ в указанном месте.
- В заданиях 12 нужно сделать чертёж или рисунок.
- В заданиях, после которых есть поле со словами «Решение» и «Ответ», запиши решение и ответ в указанном месте.
- Если ты хочешь изменить ответ — зачеркни его и запиши рядом новый.
- Пользоваться учебниками, рабочими тетрадями, справочниками и калькулятором нельзя.
- При необходимости можно пользоваться черновиком. Записи в черновике не проверяют и не оценивают.
- Рекомендуем выполнять задания по порядку. Чтобы сэкономить время, пропускай задание, которое не удаётся выполнить сразу, и переходи к следующему. Не забудь вернуться позже.
- Постарайся выполнить как можно больше заданий.

Задания

1. Вычислите: $-2 \cdot (54 - 129)$.

Ответ:

2. Вычислите: $(\frac{6}{5} - \frac{3}{4}) \cdot \frac{2}{3}$.

Ответ:

3. Число уменьшили на треть, и получилось 210. Найдите исходное число.

Ответ:

4. Вычислите: $1,54 - 0,5 \cdot 1,3$.

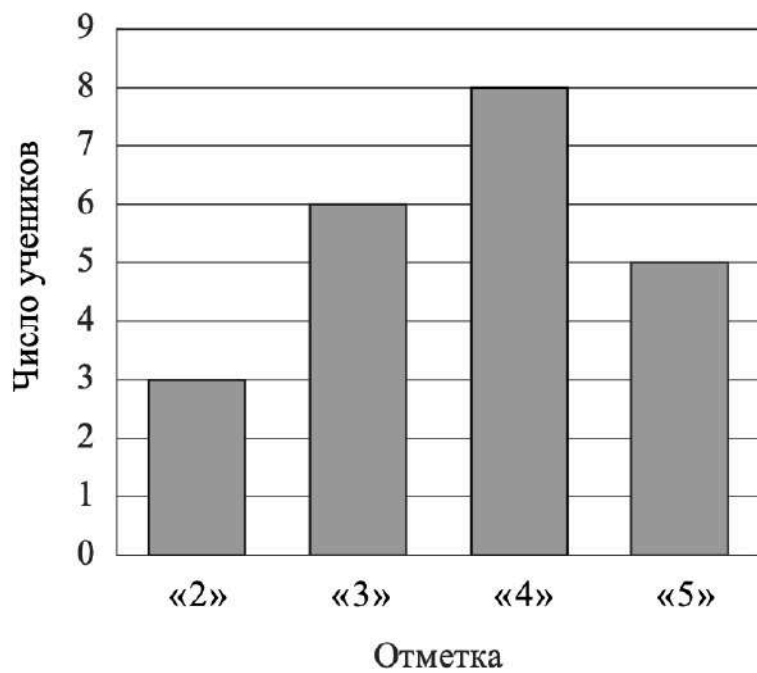
Ответ:

5. На рисунке изображены автобус и автомобиль. Длина автомобиля равна 4,2 м. Какова примерная длина автобуса? Ответ дайте в сантиметрах.



Ответ:

6. На диаграмме показаны результаты контрольной работы по математике в 6 «В» классе. По вертикальной оси указано число учеников. Сколько человек писали эту контрольную работу?

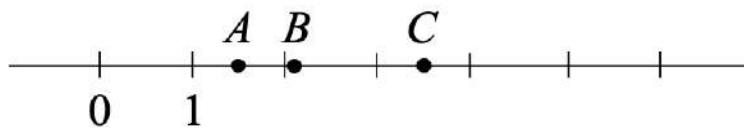


Ответ:

7. Найдите значение выражения $3x - 2y - 1$ при $x = -1$, $y = -4$.

Ответ:

8. На координатной прямой отмечены точки A, B и C.



Установите соответствие между точками и их координатами.

ТОЧКИ

A

B

C

КООРДИНАТЫ

1) 2,105

2) $3\frac{1}{2}$

3) $\frac{2}{3}$

4) $\frac{3}{2}$

5) 2,9

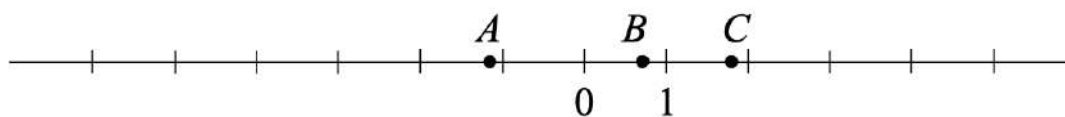
В таблице под каждой буквой укажите номер соответствующей координаты.

Ответ:

A	B	C

ИЛИ

На координатной прямой отмечены точки A, B и C.



Установите соответствие между точками и их координатами.

ТОЧКИ

A

B

C

КООРДИНАТЫ

1) $\frac{5}{7}$

2) $-\frac{9}{7}$

3) 1,8

4) -5,3

5) $1\frac{1}{7}$

В таблице под каждой буквой укажите номер соответствующей координаты.

Ответ:

A	B	C

$$2\frac{1}{3} : \left(\frac{5}{8} - \frac{8}{3}\right) - 2 \cdot 1\frac{3}{7}$$

9. Вычислите: . Запишите решение и ответ.

Решение:

Ответ:

10. В семье Михайловых пятеро детей — три мальчика и две девочки. Выберите верные утверждения и запишите в ответе их номера.

- 1) У каждой девочки в семье Михайловых есть две сестры.
- 2) Дочерей у Михайловых не меньше трёх.
- 3) Большинство детей в семье Михайловых — мальчики.
- 4) У каждого мальчика в семье Михайловых сестёр и братьев поровну.

Ответ:

11. Хоккейные коньки стоили 4500 руб. Сначала цену снизили на 20%, а потом эту сниженную цену повысили на 20%. Сколько стали стоить коньки после повышения цены? Запишите решение и ответ.

Решение:

Ответ:

12. На рис. 1 на клетчатой бумаге изображены фигуры, симметричные относительно изображённой прямой. Нарисуйте на рис. 2 фигуру, симметричную заштрихованной фигуре относительно данной прямой.

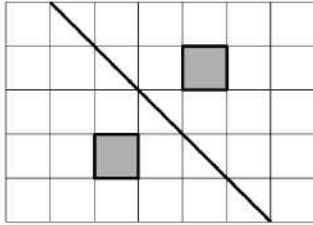


Рис. 1

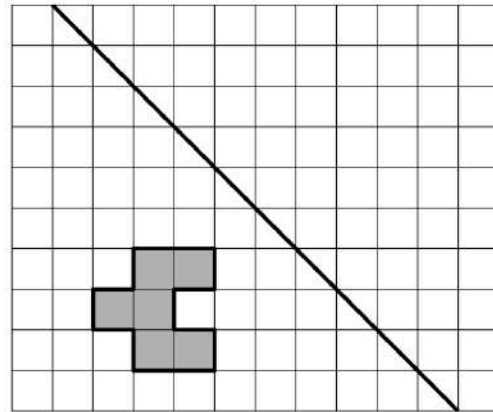


Рис. 2

ИЛИ

На рис. 1 изображены два треугольника. Они разбивают плоскость на четыре части. На свободном поле справа, обозначенном как рис. 2, нарисуйте два треугольника так, чтобы они разбивали плоскость на семь частей.

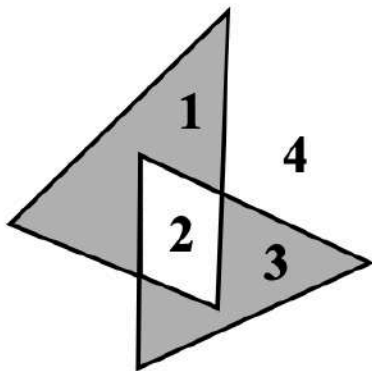
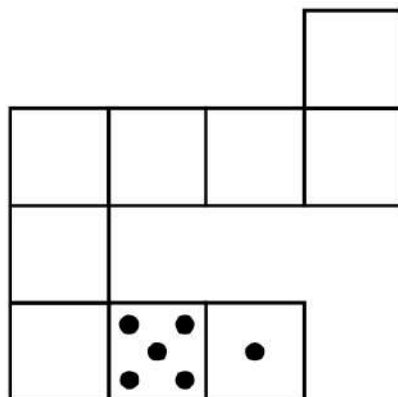


Рис. 1

Рис. 2

ИЛИ

Игральный кубик прокатили по столу. На рисунке изображён след кубика. Отметьте на рисунке место, в котором грань с четырьмя точками соприкасалась со столом.

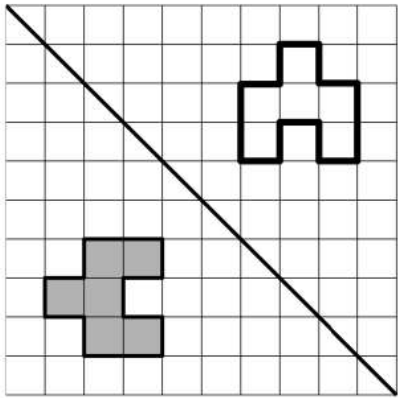



13. На доске написано число. Олег играет в арифметическую игру: он может либо стереть последнюю цифру написанного числа, либо прибавить к написанному числу число 2018 и записать полученный результат, стерев предыдущее число. Может ли Олег, действуя таким образом, в конце концов получить число 1? Если да, покажите как; если нет, объясните почему.

Решение:

Ответ:

Ответы на задания ВПР по математике за 6 класс, комплект 1 вариант 1

Номер задания	Правильный ответ
1	150
2	$\frac{3}{10}$
3	315
4	0,89
5	от 800 см до 1200 см
6	22
7	-13
8	412 ИЛИ 213
9	-4
10	3 и 4
11	4320 руб.
12	 <p>ИЛИ</p> 

Оценивание отдельных заданий

Номер задания	1	2	3	4	5	6	7	8	9	10	11	12	13	Итого
Балл	1	1	1	1	1	1	1	1	2	1	2	1	2	16

Система оценивания всей работы

Максимальный балл за выполнение работы — 16.

Рекомендации по переводу первичных баллов в отметки по пятибалльной шкале:

Отметка по пятибалльной шкале	«2»	«3»	«4»	«5»
Первичные баллы	0–5	6–9	10–13	14–16